

При выполнении заданий с кратким ответом впишите в поле для ответа цифру, которая соответствует номеру правильного ответа, или число, слово, последовательность букв (слов) или цифр. Ответ следует записывать без пробелов и каких-либо дополнительных символов. Имена правителей в заданиях с кратким ответом необходимо указывать словами: Пётр Первый или Пётр Великий, но не Пётр 1 или Пётр I.

В заданиях, где нужно установить соответствие между двумя столбцами, ответ запишите в виде сочетания букв и цифр, соблюдая алфавитную последовательность букв левого столбца. Некоторые данные правого столбца могут использоваться несколько раз или не использоваться вообще. Например: A1B1B4Г2.

Если вариант задан учителем, вы можете вписать или загрузить в систему ответы к заданиям с развернутым ответом. Учитель увидит результаты выполнения заданий с кратким ответом и сможет оценить загруженные ответы к заданиям с развернутым ответом. Выставленные учителем баллы отобразятся в вашей статистике.

1. Древние люди поверхность глиняной посуды украшали:

- 1) миниатюрами 2) фресками 3) орнаментом 4) витражами

2. Определите правильное утверждение:

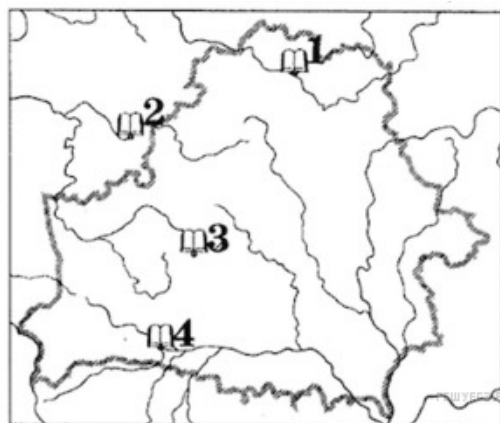
- 1) в феврале 1942 г. была создана Ставка Главного Командования
 2) партизанский отряд «Красный Октябрь» был создан под руководством Т. Бумажкова и Ф. Павловского в Октябрьском районе
 3) 19 июля 1942 г. было создано минское гетто
 4) первый областной центр, освобожденный от немецко-фашистских захватчиков, — это Могилев

3. Определите последовательность событий:

- А — создание народнической группы «Гомон»
 Б — провозглашение Манифеста об отмене крепостного права
 В — начало Февральской буржуазно-демократической революции
 Г — начало аграрной реформы П. Столыпина

- 1) АВГБ 2) БАГВ 3) ВГБА 4) БГАВ

4. Город, в котором в 1560-е гг. действовала типография, основанная С. Будным, М. Кавечинским и Л. Крышковским, обозначен на картосхеме цифрой:



- 1) 1 2) 2 3) 3 4) 4

5. Определите правильное утверждение:

- 1) в VI—VIII вв. на территории Беларуси наблюдалось смешанное проживание славян с балтами
 2) во время «великого переселения народов» расселение славян по просторам Беларуси шло с востока в направлении юга

- 3) славяне в Раннем средневековье жили в наземных постройках столбовой конструкции
- 4) на землях балтов были месторождения меди и железа, которыми они торговали с соседями

6. Политикой перестройки, которая проводилась в БССР во второй половине 1980-х гг., предусматривалось:

- 1) конституционное оформление института президентской власти в БССР
- 2) значительное снижение активности общественных организаций
- 3) конституционное закрепление руководящей роли КПБ
- 4) обеспечение всевластия Советов народных депутатов

7. Делегаты I Всебелорусского съезда, который проходил в декабре 1917 г.:

- 1) провозгласили создание Белорусской Народной Республики
- 2) выступили за сепаратный мир с Германией
- 3) поддержали власть большевиков на территории Беларуси
- 4) не признали власти Облисполкома

8. Определите правильное утверждение:

- 1) темы проведения индустриализации и коллективизации стали определяющими в творчестве М. Савицкого
- 2) белорусское искусство во второй половине 1960-х — первой половине 1980-х гг. освободилось из-под контроля Коммунистической партии
- 3) Н. Борисевич и М. Мацепуро стали первыми белорусскими летчиками-космонавтами
- 4) в условиях замедления темпов экономического развития республики в 1980-е гг. снизилась эффективность белорусской науки

9. Определите княжество, в котором в 1005 г. была основана епархия:

- 1) Туровское 2) Друцкое 3) Городенское 4) Мстиславское

10. В ВКЛ в XV—XVI вв. «непохожими» называли крестьян, которые:

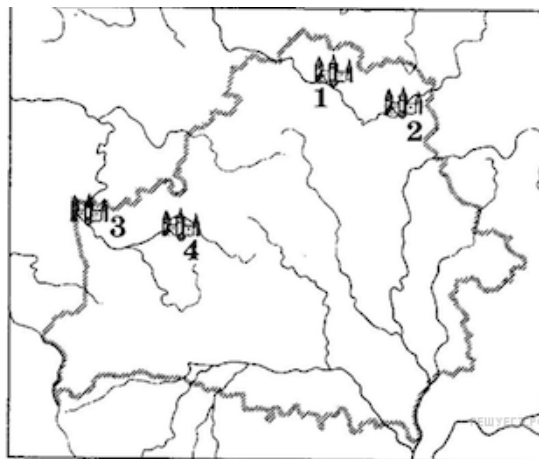
- 1) отличались своим имущественным положением
- 2) не имели права переходить от одного феодала к другому 3) проживали в разной местности
- 4) выполняли разные повинности

11. Установите последовательность событий, которые произошли в XVI—XVIII вв. в ВКЛ:

- А — принятие Конституции 3 мая в Речи Посполитой
- Б — заключение Берестейской (Брестской) церковной унии
- В — интервенция Речи Посполитой в Россию
- Г — крестьянское восстание в Кричевском старостве

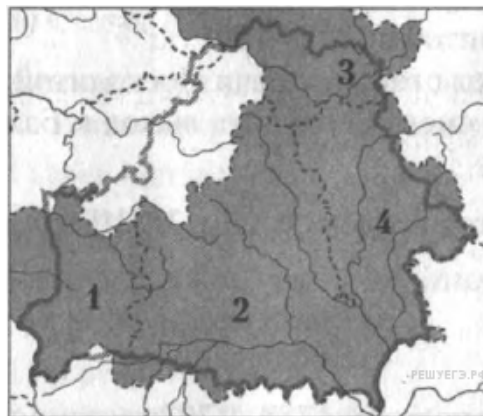
- 1) БВГА 2) ВАБГ 3) БГВА 4) ГАВБ

12. В 1314 г. Давид Гродненский отбил нападение немецких рыцарей на замок в городе, который обозначен на картосхеме цифрой:



- 1) 1 2) 2 3) 3 4) 4

13. Губерния, на территории которой в 1820-е гг. были построены первые в Беларуси суконные фабрики, отмечена на карте цифрой:



- 1) 1 2) 2 3) 3 4) 4

14. В 2010 г. в Беларуси впервые состоялся международный музыкальный конкурс:

- 1) «Золотой шлягер» 2) «Славянский базар» 3) детский конкурс «Евровидение»
4) «Звенят цимбалы и гармонь»

15. Во второй половине XVI — первой половине XVII в. на белорусских землях распространение получили(-о):

- 1) периодические издания 2) замки-кастели 3) белорусоведение
4) профессиональные театры 5) книгопечатание

16. Укажите название художественного фильма по одноименной повести В. Быкова, который получил специальный приз на Каннском кинофестивале (2012):

- 1) «В тумане»; 2) «Крест Евфросинии Полоцкой»; 3) «Сымон Будный. Поэма»;
4) «Анастасия Слуцкая».

17. Узнайте историческую личность и запишите только фамилию.

Уроженец Беларуси, композитор, автор музыки к комедии-опере В. Дунина-Марцинкевича «Крестьянка». Основатель польской и белорусской классической музыки.

18. Белорусская социалистическая громада была окончательно оформлена в ... году.

19. Установите соответствие между изображениями архитектурных памятников белорусских земель XV—XVIII вв. (современный вид) и их названиями.

А	Б	В
1) церковь в деревне Мурованка 2) Мирский замок	3) Слонимский Андреевский костел 4) бывший кальвинистский сбор в Заславле	

Ответ запишите в виде сочетания букв и цифр, сохраняя алфавитную последовательность букв верхнего ряда. Помните, что некоторые данные нижнего ряда могут не использоваться. Например: А2Б1В3.

20. Установите соответствие.

СОБЫТИЕ	ГОД
А) поход полоцкого князя Брячислава на Новгород	1) 988
Б) начало княжения в Менске (Минске) Глеба Всеславича	2) 1021
В) поход киевского князя Мстислава и семи русских князей на Полоцк	3) 1101
Г) крещение князем Владимиром Киева	4) 1127

Ответ запишите в виде сочетания букв и цифр, сохраняя алфавитную последовательность букв левого столбца. Например: А2Б1В4Г3.

21. Установите соответствие.

СОБЫТИЕ	ГОД
А) первое укрупнение территории БССР	1) 1917
Б) заключение Брестского мирного договора	2) 1918
В) созыв I Всебелорусского съезда	3) 1923
Г) начало деятельности Коммунистической партии Западной Беларуси (КПЗБ)	4) 1924

Ответ запишите в виде сочетания букв и цифр, сохраняя алфавитную последовательность букв левого столбца. Например А2Б3В4Г1.

22. Узнайте историческую личность и запишите только фамилию.

Белорусский исследователь, занимался изучением восточнославянской и белорусской археологии, этнографии, фольклористики. Основал в родном городе первый в Беларуси исторический музей.

23. Определите три предпосылки заключения Брестской (Берестейской) церковной унии 1596 г.:

- 1) распространение реформационного движения в Речи Посполитой
- 2) стремление католической церкви расширить свое влияние на востоке Европы
- 3) желание некоторых православных иерархов достичь равенства в правах православной церкви и католической
- 4) желание верховной власти Речи Посполитой снизить влияние католической церкви в государстве
- 5) желание верховной власти Речи Посполитой оказать поддержку православной церкви.

Ответ запишите цифрами в порядке возрастания. Например 235.

24. Установите соответствие. Ответ запишите в виде сочетания букв и цифр, соблюдая алфавитную последовательность букв левого столбца. Помните, что некоторые данные правого столбца могут не использоваться. Например: А1Б4В3Г5.

Событие	Год
А) начало правления князя Ольгерда в ВКЛ	1) 1345 г.
Б) начало гражданской войны в ВКЛ между Свидригайло и Сигизмундом Кейстутовичем	2) 1416 г.
В) принятие I Статута ВКЛ	3) 1432 г.
Г) битва войск ВКЛ с татарами под Клецком	4) 1506 г.
	5) 1529 г.

25. Установите последовательность событий.

- А) Присвоение Минску звания «Город-герой»;
- Б) проведение XX съезда КПСС;
- В) попытка государственного переворота в СССР (августовский путч);
- Г) законодательное закрепление руководящей и направляющей роли Коммунистической партии Беларуси.

Ответ запишите в виде сочетания букв. Например: ВГАБ.

26. Определите характерные черты развития промышленности Беларуси во второй половине XIX—начале XX в.

Ответ запишите цифрами (порядок записи цифр не имеет значения). Например: 235.

- 1) Размещение большинства предприятий в сельской местности;
- 2) развитие преимущественно тяжелой промышленности;
- 3) размещение предприятий исключительно в городах;
- 4) специализация промышленности на переработке местного сырья;
- 5) расширение фабрично-заводской промышленности.

27. Предприятия промышленного производства, основанные на разделении труда и ручной ремесленной технике, возникшие в Речи Посполитой в первой половине XVIII в., — это _____.

Ответ запишите словом в той форме, в которой оно должно быть употреблено в предложении.

28. Органы местного самоуправления, введенные в Витебской, Могилевской и Минской губерниях в 1911 г., — это _____.

Ответ запишите словом в той форме, в которой оно должно быть употреблено в предложении.

29. Определите три характерные черты общественно-политической жизни БССР в 1930-е гг.

- 1) Свободная деятельность религиозных организаций
- 2) установление единой государственной идеологии
- 3) отказ от административно-командных методов управления
- 4) установление культа личности И. Сталина
- 5) полный контроль Коммунистической партии за жизнью общества

Ответ запишите цифрами в порядке возрастания. Например: 235.

30. Запишите название художественного стиля, для которого характерны приведенные черты:

- 1) развивается с конца XVIII в., расцвет относится к первой половине XIX в.
- 2) известные представители — В. Ванькович, В. Дмоховский, С. Монюшко
- 3) сторонники уделяли значительное внимание внутреннему миру человека
- 4) поэтизировали героических личностей, идеализировали природу и действительность

31. Определите три характерные черты общественно-политической жизни Беларуси в середине 1990-х гг. — начале XXI в.

- 1) формирование важнейших идеологических ориентиров на основе традиционных ценностей
- 2) отсутствие негосударственных средств массовой информации
- 3) регулирование отношений государства и религиозных конфессий Конституцией Республики Беларусь
- 4) незначительное влияние политических партий на политическую жизнь общества
- 5) отказ от многопартийной политической системы

Ответ запишите цифрами в порядке возрастания. Например: 124.

32. Путь развития экономики, связанный прежде всего с увеличением количественных, а не качественных показателей, — это _____ **путь развития экономики.**

Дополните предложение. Ответ запишите словом в той форме, в которой оно должно быть употреблено в предложении.

33. Установите соответствие.

- А) принятие I Статута ВКЛ
 Б) перенос столицы ВКЛ в Вильно
 В) заключение Островского соглашения между Витовтом и Ягайло
 Г) начало гражданской войны в ВКЛ между Свидригайло и Сигизмундом Кейстутовичем и их сторонниками

1) 1323 г. 2) 1392 г. 3) 1432 г. 4) 1529 г. 5) 1566 г.

Ответ запишите в виде сочетания букв и цифр, соблюдая алфавитную последовательность букв левого столбца. Например: А1Б2В3Г4. Помните, что некоторые данные правого столбца могут не использоваться.

34. Прочитайте выдержку из документа и запишите название крестьянской повинности, о которой сообщается в тексте.

«Кто б после заказа не вышел на работу, то за такое непослушание должен отработать за первый день два дня, не покидая территории панского двора, аза второй — четыре дня, тоже находясь при дворе. Если кто-либо не вышел на работу все три дня или на протяжении шести недель раз в неделю, то за эту неделю в цепях должен работать при дворе».

35. Вставьте в приведенном тексте на места пропусков подходящие по смыслу слова из предложенного списка. Выбирайте их последовательно, мысленно вставляя в нужной форме.

В XI в. в Полоцкой земле уже была известна кириллическая письменность. Об этом свидетельствуют , обнаруженные надписи. На севере Беларуси в русле реки А) _____ найдены большие валуны, на которых в XII в. были высечены кресты и одинаковая надпись: «Господи, помози рабу своему Борису». Грамотность была распространена и среди незнатного населения, о чем свидетельствуют Б) _____ обнаруженные в В) _____ и Мстиславле.

Слова:

- 1) Западная Двина
- 2) Припять
- 3) Могилев
- 4) Витебск
- 5) фрески
- 6) берестяные грамоты

Ответ запишите в виде сочетания букв и цифр, соблюдая алфавитную последовательность букв верхнего ряда. Например: А1Б2В3. Помните, что некоторые данные нижнего ряда могут не использоваться.

36. Определите три характерные черты социально-экономического развития Республики Беларусь во второй половине 1990-х гг. — начале XXI в.:

- 1) использование исключительно командно-административных методов управления экономикой;
- 2) осуществление Национальной стратегии устойчивого развития Республики Беларусь;
- 3) государственное финансирование крупных промышленных предприятий;
- 4) запрет аренды и индивидуальной трудовой деятельности;
- 5) определение государством плановых социально-экономических показателей.

Ответ запишите цифрами (порядок записи цифр не имеет значения, количество цифр в ответе в указанных заданиях может быть разным). Например: 12 или 123.

37. Определите три характерные черты общественно-политического развития Республики Беларусь во второй половине 1990-х гг. — начале XXI в.:

- 1) изменение названия страны;
- 2) становление Республики Беларусь как правового государства;
- 3) развитие гражданского общества;
- 4) проведение первых президентских выборов;
- 5) внесение изменений и дополнений в Конституцию.

Ответ запишите цифрами (порядок записи цифр не имеет значения, количество цифр в ответе в указанных заданиях может быть разным). Например: 12 или 123.

38. Вставьте в приведенном тексте на места пропусков подходящие по смыслу слова из предложенного списка. Выбирайте их последовательно, мысленно вставляя в нужной форме.

В конце 1820-х гг. униатский митрополит Иосиф Семашко обратился к императору Николаю I с предложением объединить униатскую церковь с А) _____ с целью Б) _____. В 1839 г. на В) _____ церковном соборе был подписан акт объединения двух церквей.

Слова:

- 1) ликвидация католической церкви
- 2) освобождение от «польского влияния»
- 3) Берестейский
- 4) Полоцкий
- 5) католический
- 6) православный

Ответ запишите в виде сочетания букв и цифр, соблюдая алфавитную последовательность букв верхнего ряда. Например: А1Б2В3. Помните, что некоторые данные нижнего ряда могут не использоваться.